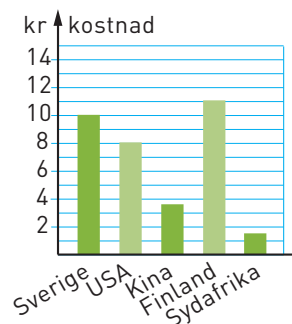


Olika slags diagram

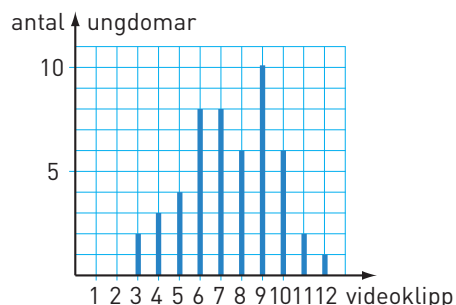
Diagrammet visar hur mycket maten till en skollunch kostar per portion i fem olika länder.

- 1 I vilket land kostar maten mest? _____
- 2 Hur mycket kostar maten i Kina? _____
- 3 Hur mycket mer kostar maten i Sverige än i Sydafrika? _____
- 4 Vad kallas diagramtypen? _____



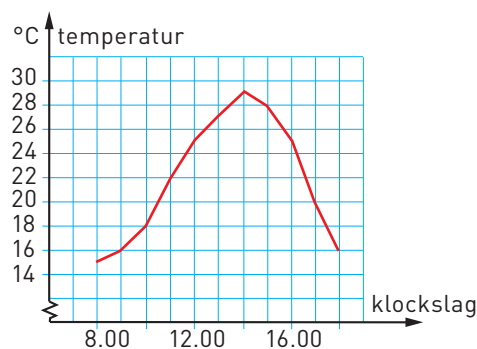
Diagrammet visar hur många videoklipp på You Tube som några ungdomar tittade på under en dag.

- 5 Vilket antal videoklipp var vanligast? _____
- 6 Hur många ungdomar hade sett 8 klipp? _____
- 7 Hur många hade sett 10 klipp eller fler? _____
- 8 Hur många ungdomar hade tillfrågats? _____
- 9 Vad kallas diagramtypen? _____



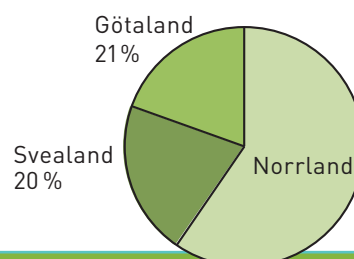
Diagrammet visar temperaturen i Uppsala under en vecka i september.

- 10 Vilken var temperaturen 9.00? _____
- 11 Vilken var dagens högsta temperatur? _____
- 12 När var temperaturen 18 °C? _____
- 13 Vad kallas diagramtypen? _____



Diagrammet visar hur Sveriges area är fördelad över Götaland, Svealand och Norrland.

- 14 Vilken landsdel har den minsta arean? _____
- 15 Hur många procent av Sveriges yta utgör Norrland? _____
- 16 Vad kallas diagramtypen? _____



Olika slags diagram

FACIT

- 1 Finland
- 2 3,50 kr
- 3 8,50 kr
- 4 Stapeldiagram
- 5 9 klipp
- 6 6 ungdomar
- 7 9 ungdomar
- 8 50 ungdomar
- 9 Stolpdiagram
- 10 16 °C
- 11 29 °C
- 12 10.00 och 17.30
- 13 Linjediagram
- 14 Götaland
- 15 59 %
- 16 Cirkeldiagram