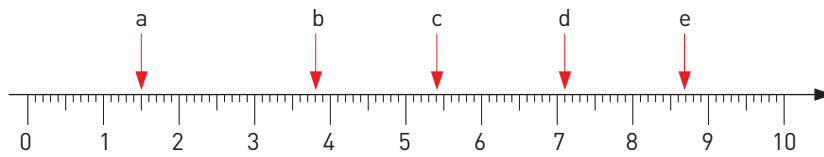


Decimaltal

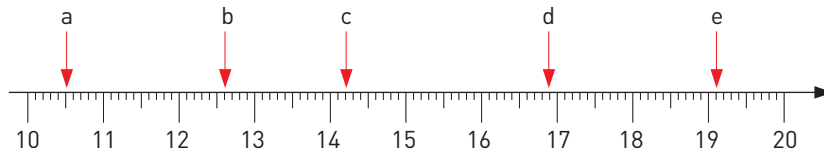
Vilka tal pekar pilarna på?

1



a) _____ b) _____ c) _____ d) _____ e) _____

2



a) _____ b) _____ c) _____ d) _____ e) _____

Hur långa är sträckorna? Svara i

a) millimeter b) centimeter och millimeter c) centimeter

3



a) _____ b) _____ c) _____

4



a) _____ b) _____ c) _____

5



a) _____ b) _____ c) _____

6 Skriv priserna i kronor och ören.


a)



b)



c)



Decimaltal

FACIT

- 1 a) 1,5
b) 3,8
c) 5,4
d) 7,1
e) 8,7
- 2 a) 10,5
b) 12,6
c) 14,2
d) 16,9
e) 19,1
- 3 a) 65 mm
b) 6 cm 5 mm
c) 6,5 cm
- 4 a) 82 mm
b) 8 cm 2 mm
c) 8,2 cm
- 5 a) 118 mm
b) 11 cm 8 mm
c) 11,8 cm
- 6 a) 8 kr 50 öre
b) 16 kr 75 öre
c) 6 kr 90 öre