



Räkna med tid

- 1 a) Hur mycket är klockan? _____
 b) Hur mycket är klockan om en kvart? _____
 c) Hur mycket var klockan för en halvtimme sedan? _____




Eftermiddag

- 2 a) Hur mycket är klockan? _____
 b) Hur mycket är klockan om tjugo minuter? _____
 c) Hur mycket var klockan för tjugo minuter sedan? _____



Förmiddag


- 3 a) Hur mycket är klockan? _____
 b) Hur mycket är klockan om en kvart? _____
 c) Hur mycket var klockan för en kvart sedan? _____



Kväll


Hur lång tid är det mellan klockslagen?

4




Förmiddag

5




Eftermiddag

6



Kväll

7



Förmiddag

Räkna med tid

FACIT

- 1 a) 16.25
b) 16.40
c) 15.55
- 2 a) 10.45
b) 11.05
c) 10.25
- 3 a) 19.05
b) 19.20
c) 18.50
- 4 2 h 10 min
- 5 2 h 45 min
- 6 25 min
- 7 2 h 30 min